

新北市立高中職 100 學年度教師聯合甄選

商業經營科試題

選擇題：80 題，每題 1.25 分

1. 經濟學將資源分類為下列為：

- (A) 勞動、貨幣、原物料與資本
- (B) 資本、勞動、企業家精神與原物料
- (C) 土地、資本、勞動與企業家精神
- (D) 人力資本、實體資本、土地與勞動

Ans：C

2. 在一個完全競爭的市場內，有下列何種情況？

- (A) 價格可能因為供給者惜售而上漲
- (B) 每一個參與者的交易量太少而無法改變價格
- (C) 必須依賴政府干預以提供公平的價格
- (D) 資源經由一個中央主管機關分配

Ans：B

3. 消費者不可能無限制的購買任一種財貨，因為

- (A) 他們不希望長期保存該財貨
- (B) 每一次購買行動皆涉及機會成本
- (C) 過量購買行為不為社會所容許
- (D) 銷售者的存貨會清光

Ans：B

4. 下列何者屬於不完全競爭市場的特徵？

- (A) 任何買者或賣者皆無法改變價格
- (B) 一個大賣家可以提高售價同時增加銷售量
- (C) 一個大買家可以在不影響市場價格下增加購買量
- (D) 一個銷售者可以降低售價以提高銷售量

Ans：D

5. 若柳丁汁的價格上漲，對葡萄柚汁的需求會

- (A) 因為二者互為替代品而增加
- (B) 因為二者互為互補品而增加
- (C) 因為二者互為替代品而減少
- (D) 因為二者互為互補品而減少

Ans：A

6. 「多數財貨的需求隨著所得增加而增加」，此敘述

- (A) 與需求律相矛盾
- (B) 隱喻多數財貨為劣等財
- (C) 顯示需求量與價格呈反方向變動
- (D) 顯示多數財貨為正常財

Ans：D

7. 若一個理性消費者認為一粒蘋果優於二粒柳丁，同時二粒柳丁優於一粒柳丁，這位消費者
- (A) 必定認為二粒柳丁優於一粒蘋果
 - (B) 必定認為一粒蘋果優於一粒柳丁
 - (C) 必定認為二粒柳丁優於二粒蘋果
 - (D) 必定認為二粒柳丁與二粒蘋果並無差別

Ans : B

8. 提高法定準備率為何影響銀行創造貨幣的能力？
- (A) 因為超額準備減少，銀行可以創造更多貨幣。
 - (B) 因為活期存款乘數提高，銀行可以創造更多貨幣。
 - (C) 因為迫使銀行保有更多準備金，因而降低銀行創造貨幣的能力。
 - (D) 銀行創造貨幣的能力不受影響。

Ans : C

9. 下列假設中，何者與廠商的生產函數有關？
- (A) 假設生產財貨所雇用的勞動量固定不變
 - (B) 假設生產技術固定不變
 - (C) 假設生產財貨所使用的資本量固定不變
 - (D) 總收益隨產出增加而增加

Ans : B

10. 若廠商正面臨勞動邊際報酬遞減的狀況，則
- (A) 總產出必定減少
 - (B) 總產出隨著勞動量增加而以較慢的速度增加
 - (C) 廠商必須減少勞動雇用量
 - (D) 單位勞工產出量必定上升

Ans : B

11. 會計利潤與經濟利潤的差別主要是因為
- (A) 對成本的定義不同所致
 - (B) 對收益定義不同所致
 - (C) 對總收益的計算方式不同所致
 - (D) 廠商所經營產業的市場結構所影響

Ans : A

12. 當廠商的總成本隨產出增加而上升時，則
- (A) 邊際成本為正值
 - (B) 利潤並非最大
 - (C) 總成本為最低
 - (D) 廠商應該於短期內關廠

Ans : A

13. 失業率達到 6% 時表示：
- (A) 沒有工作的人口數比率為 6%
 - (B) 勞動力中未能就業的比率為 6%
 - (C) 願意工作卻找不到工作者的比率為 6%
 - (D) 正在找工作而尚未找到工作的人數比率為 6%

Ans : B

14. 爲了在短期內獲得最大利潤，下列何種情況下，航空公司必須增加一個航班？

- (A)邊際收益大於沉入成本時
- (B)增加的收益大於增加的成本時
- (C)邊際收益大於平均成本時
- (D)平均售價大於平均總成本時

Ans : B

15. 下列何者與新廠商容易進入市場的假設相符？

- (A)規模經濟使得現有廠商擁有成本優勢
- (B)都市計畫限制特定區域內的企業家數
- (C)顧客對現有廠商具有高度的品排忠誠度
- (D)僅需支付正常成本與顧客建立及發展關係

Ans : D

16. 小六在一個完全競爭的市場內每天以\$100 價格出售 200 杯咖啡。若他不顧他人而將咖啡降價爲每杯\$75，則

- (A)他可以銷售 250 杯咖啡
- (B)他的收入會減少
- (C)他的收入會增加
- (D)其他咖啡店隨他降價到每杯\$75

Ans : B

17. 甲廠商在一個完全競爭的市場經營，乙廠商在一個不完全競爭的市場經營。下列關於總收入曲線的敘述何者正確？

- (A)二者的總收益線都是先下降再上升
- (B)二者的總收益曲線皆爲正斜率的直線
- (C)甲廠商的總收益曲線爲正斜率的直線，而乙廠商則爲先上升再下降
- (D)甲廠商的總收益曲線爲水平直線，而乙廠商則爲正斜率的直線

Ans : C

18. 以下各點何者對一個獨占者爲真？

- (A)因爲降價及於全部銷售單位，必定損失部分收入，因此 $P > MR$
- (B)因爲獨占者必須降價方可提高銷售量，因此 $P < MR$
- (C)只有在最大利潤的情況下 $P = MR$
- (D)因爲市場內並無代替品，因此 $P = MR$

Ans : A

19. 獨占者的供給曲線爲何？

- (A)爲邊際成本曲線位於平均總成本曲線上方的部分
- (B)爲邊際成本曲線位於平均變動成本曲線上方的部分
- (C)因爲規模經濟而呈下降狀態
- (D)並不存在

Ans : D

20. 獨占者今日所遭遇的最大威脅來自下列何者？

- (A)技術進步
- (B)尋租活動

(C)政府的反托拉斯法

(D)專利與版權

Ans : A

21. 政府可以藉助下列何者提升經濟效率？

(A)設置工業區將產業集中以克服規模不經濟問題

(B)允許市場機能運作以實現分配的功能

(C)廢除司法體系

(D)加速市場的不完全競爭

Ans : A

22. 財產權的功能為下列那一項？

(A)有助於確保經濟體系的交易活動皆在自願的前提下進行

(B)可能降低經濟效率

(C)有助於確定資源的所有權

(D)成為課徵財產稅的依據

Ans : C

23. 一種「外部性」是指

(A)一家廠商在外部市場所創造的收益

(B)未計入一項財貨價格中的額外成本或利益

(C)因為價格改變所產生的成本或利益

(D)一項財貨或服務帶給消費者的價值

Ans : B

24. 下列各種情況下，何者代表一個國家的生活水準提高了？

(A)實質 GDP 上升的速度大於人口增加率

(B)實質 GDP 上升的速度大於物價上漲率

(C)實質 GDP 增加

(D)實質 GDP 增加的速度大於就業人口數增加率

Ans : A

25. 計算 GDP 時應將存貨計入的理由為

(A)GDP 所計算者為總生產量而非總購買量

(B)存貨構成爾後消費的重要來源

(C)商店視存貨為其利潤的一部分

(D)廠商依存貨量多寡制定下一年度的生產計畫

Ans : A

26. 假設人口增加 2%，下列何者為提高生活水準所必須者？

(A)名目 GDP 增加率必須大於 2%

(B)實質 GDP 增加率必須大於 2%

(C)消費支出增加率必須大於 2%

(D)民間投資支出增加率必須大於 2%

Ans : B

27. 消費者物價指數 (CPI)，是指

(A)衡量經濟體系所生產全部產品的價格

(B)包括原料價格

- (C)僅包含國產消費財的價格
- (D)包括二手消費商品的價格

Ans : D

28. 製成品進口物價

- (A)因為此屬於國外生產者，故不計入 CPI 中
- (B)因為各國採用的基期不同，故不計入 CPI 中
- (C)因為進口商品並非以本國貨幣計價，故不計入 CPI 中
- (D)包含於 CPI 中

Ans : D

29. 下列何者可能發生？

- (A)物價上漲同時通貨膨脹率為逐漸上升的負值
- (B)物價下降同時通貨膨脹率為逐漸下降的正值
- (C)物價下降同時通貨膨脹率為逐漸上升的正值
- (D)物價上漲同時通貨膨脹率為逐漸下降的正值

Ans : D

30. 假設經濟體系由工資收入者與財貨銷售者二個族群組成，若物價上漲 30%，同時實質工資亦上升 30%，

- (A)在二個群體間的購買力再分配效果不會發生
- (B)購買力由工資收入者轉到財貨銷售者
- (C)購買力由財貨銷售者轉到工資收入者
- (D)名目工資上升 90%

Ans : C

31. 某些低度開發國家在追求經濟持長時必須犧牲其他社會目的，特別是指

- (A)乾淨的環境
- (B)投資機會
- (C)人力資本形成
- (D)實體資本形成

Ans : A

32. 為了鼓勵投資促進經濟成長而採取減稅措施時，則

- (A)必須搭配減少政府支出以提高其效果
- (B)為了避免排擠效應，必須增加其他方面的稅收或減少政府支出
- (C)只有在降低財政赤字下方可奏效
- (D)只有降低資本利得稅方有效

Ans : B

33. 總體經濟學家將總支出分為哪四大類？

- (A)消費支出、資本支出、社會支出與投資支出
- (B)正常財、劣等財、共同財與服務
- (C)消費支出、投資支出、政府支出與輸出淨額
- (D)消費者支出、勞工支出、企業支出與政府支出

Ans : C

34. 假設政府支出固定為\$1,000，投資支出固定為\$2,000，邊際消費傾向為 0.70。若所得增加

\$10,000, 總支出會增加額為何?

- (A) \$700
- (B) \$2,000
- (C) \$7,000
- (D) \$1,000

Ans : C

35. 下列何者不屬於自動安定因素?

- (A) 前瞻式行爲
- (B) 物價
- (C) 進口
- (D) 消費支出

Ans : D

36. 貨幣是經濟體系內的支付工具, 以下何者屬於貨幣?

- (A) 通貨、支票存款帳餘額、信用卡限額
- (B) ATM 卡、支票帳餘額、通貨
- (C) 通貨、股票、信用卡限額
- (D) 通貨、支票存款帳餘額、活期存款帳餘額

Ans : D

37. 持有貨幣的機會成本是

- (A) 爲了將其他資產轉換爲貨幣所支付的成本
- (B) 處分基金的時間成本
- (C) 一個人爲以貨幣購買財貨與服務的價值
- (D) 因持有債券而賺得之利息

Ans : D

38. 若實際利率低於均衡利率, 則

- (A) 中央銀行必須對金融市場進行干預以恢復均衡利率水準
- (B) 債券的價格會上升
- (C) 債券價格會下降
- (D) 貨幣供給會增加直到利率上升爲止

Ans : C

39. 假設生產一輛汽車在日本須放棄生產 40 部電腦, 而在臺灣則須放棄 80 部電腦, 則

- (A) 日本擁有生產電腦的比較優勢
- (B) 臺灣擁有生產電腦的比較優勢
- (C) 臺灣擁有生產汽車的比較優勢
- (D) 二國生產電腦與汽車的比較優勢相同

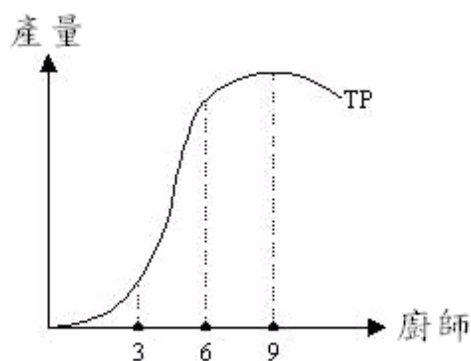
Ans : B

40. 銀行所獨有的服務爲

- (A) 貨幣創造
- (B) 提供支票存款服務
- (C) 提供投資諮商服務
- (D) 增加民眾持有的現金量

Ans : B

41. 經濟學家特別重視均衡時的價量，其原因為何？
 (A) 均衡以外之價量不可能出現
 (B) 均衡以外之價量違反供需法則
 (C) 均衡之價量難以達到
 (D) 均衡以外之價量無法持續存在
 Ans : D
42. 若需求曲線為完全無彈性，則下列何者正確？
 (A) 均衡價格由需求面決定
 (B) 廠商可將從量稅完全轉嫁給消費者
 (C) 政府可有效進行價格管制
 (D) 政府對商品課稅可減少交易量
 Ans : B
43. 某地區雞肉的需求函數為 $Q = 10 - P$ ，而供給函數為 $Q = 5 + P$ ，若政府對每斤雞肉課徵 1 元的稅，則消費者與供應商每斤各負擔多少稅？
 (A) 0.2 ; 0.8
 (B) 0.8 ; 0.2
 (C) 0.5 ; 0.5
 (D) 0.4 ; 0.6
 Ans : C
44. 若 X 與 Y 的邊際效用為正，則下列敘述何者有誤？
 (A) 無異曲線必凸向原點
 (B) 此人對 X 與 Y 的消費沒有最大滿足點
 (C) 無異曲線為負斜率
 (D) 無異曲線越往東北方效用越大
 Ans : A
45. 下圖為某餐廳的總產量圖，請問下列敘述何者為誤？
 (A) 當僱用第 6 位廚師時，該餐廳的邊際產量為零
 (B) 總產量上任一點的切線斜率，即為該餐廳的邊際產量
 (C) 總產量上任一點與原點連線的斜率，即為該餐廳的平均產量
 (D) 在廚師人數為 6 位至 9 位間時，邊際報酬遞減法則成立



Ans : A

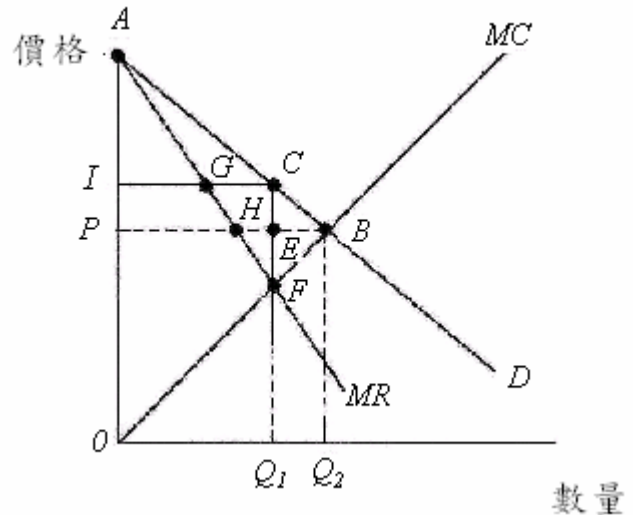
46. 假設礦泉水市場為完全競爭市場，而其個別廠商長期平均成本及長期邊際成本分別為 $LAC=q+(100/q)$ ， $LMC=2q$ ，又礦泉水的市場總需求線為 $Q=8000-50P$ ，則下列敘述何者為非？
- (A) 長期市場中總交易量為 7000
 (B) 長期均衡時每家廠商的產量為 10
 (C) 市場上共有 600 家廠商
 (D) 長期市場均衡價格為 \$20

Ans : C

47. 由下圖中，我們發現由完全競爭市場轉變成獨佔市場，會導致社會福利的損失，相當於在圖中的

- (A) I PCB
 (B) I PEC
 (C) CBE
 (D) CBF

Ans : D



48. 下列有關獨佔市場的敘述何者為真？
- (A) 獨佔廠商面對的需求價格彈性比完全競爭廠商大
 (B) 獨佔廠商不論如何訂價，必然造成社會福利淨損失
 (C) 獨佔廠商的邊際收益線為負斜率的
 (D) 由於市場中僅此一家廠商，所以可不斷抬高價格使利潤增加

Ans : C

49. 王老五在夜市擺攤子賣小吃，月入數百萬。原本他都沒有誠實納稅，後來他被稅捐機關盯上之後，必須誠實納稅，自此之後他一個禮拜只工作 5 天而非 7 天，最可能的解釋為？
- (A) 王老五賭氣不想工作
 (B) 所得效果使得王老五減少工作
 (C) 休閒的機會成本增加了，使得王老五不工作
 (D) 替代效果使得王老五減少工作

Ans : D

50. 假設有一家台灣的貿易出口公司面對的是完全競爭的產品及勞動市場，出口商品係以美金計價，且美金價格不變。當美金對台幣由 1:40 變成 1:30 時，下列何者最可能發生？
- (A) 該公司維持員工人數不變
 (B) 該公司開始裁員
 (C) 公司的生產成本維持不變
 (D) 該公司開始增加招募員工

Ans : B

51. 關於「資本」這種生產要素的描述何者有誤？
(A)廠商對資本的需求也算是引申需求
(B)資本價格 = 利息 + 折舊
(C)資本在經濟學上通常專指廠商營運所需的資金
(D)一般而言，資本的價格越高時，廠商的資本需求量越少
Ans：C
52. 在一種經濟狀態下，如果我們無法在不損及他人效用的情況下同時增加某些人的效用，則此狀態稱為
(A)柏瑞圖效率
(B)柏瑞圖定理
(C)柏瑞圖理想國
(D)柏瑞圖改善
Ans：A
53. 下列何種情況不屬於市場失靈情況？
(A)公共財
(B)柏瑞圖效率
(C)經濟社會並非處於完全競爭
(D)外部性
Ans：B
54. 具外部性之消費行為其邊際社會利益等於
(A)願付價格
(B)邊際消費利益 + 邊際外部利益
(C)補貼之補貼額
(D)邊際外部利益
Ans：B
55. 關於「道德風險」的敘述，下列何者為非？
(A)交易的一方於合約簽訂後所採取某些行為不會被另一方發現
(B)健保制度只能算是反向選擇實例，不可以算是一個道德風險的實例
(C)交易或定契約的雙方有資訊不對稱的情形存在
(D)產險合約常定有自付額的條款就是為了減少道德風險發生的機率。
Ans：B
56. 某一2年期公債，到期時償還10000元，每年年中不付利息，目前市價9000元。另外市場上還有一種1年期，到期時償還10000元，年中也不付息的債券，市價為9500元。若有一債券分兩年償還10000元本金，也就是一年後先還5000元，兩年後再還5000元，問此債券市價該為多少？
(A)9500元
(B)9750元
(C)9000元
(D)9250元
Ans：D
57. 下列那項不是股市泡沫的特徵？
(A)投資人期望的獲利來源是股價的上升而非股利的分配

- (B)股價漲得比房地產快
- (C)平時不瞭解投資股票的人也紛紛投資股票
- (D)股價上漲遠超過公司的現值

Ans : B

58. 設社會生產 X, Y 兩商品, 第一年 X 商品及 Y 商品的價格與數量分別為(2, 100), (10, 40), 第二年 X 商品及 Y 商品的價格與數量分別為(3, 80), (8, 60), 請問第二年的消費者物價指數為多少? (以第一年為基期)
- (A) 103.3
 - (B) 121.4
 - (C) 105.6
 - (D) 94.7

Ans : A

59. 當實際失業率等於自然失業率時, 則社會上不存在下列何種失業?
- (A)結構性失業
 - (B)隱藏性失業
 - (C)摩擦性失業
 - (D)循環性失業

Ans : D

60. 假設在經濟社會中的所有個體都可以準確的預估未來物價膨脹率, 則下列何者正確?
- (A)物價膨脹對資方有利, 對勞方不利
 - (B)物價膨脹對資方不利, 對勞方有利
 - (C)物價膨脹不會有財富重分配效果
 - (D)物價膨脹對債權人有利, 對債務人不利

Ans : C

61. 某些經濟學者認為, 赤字預算與平衡預算兩者的政策效果並無不同, 此一主張稱之為
- (A)賽伊法則
 - (B)華格納法則
 - (C)柏瑞圖最適
 - (D)李嘉圖等值定理

Ans : D

62. 下列事件何者會造成誘發性消費的變動?
- (A)亞洲金融風暴重創股市, 導致股價下跌
 - (B)新台幣對美元升值
 - (C)網際網路的興起使得高科技公司投入電子商務的研發
 - (D)景氣復甦造成個人所得提高

Ans : D

63. 在封閉體系並且考慮政府部門下, 假設邊際稅率為 0.25, 邊際消費傾向為 0.8, 若政府購買增加 1000 萬, 則均衡產出增加:
- (A) 1666.66 萬
 - (B) 400 萬
 - (C) 2500 萬
 - (D) 600 萬

Ans : C

64. 政府有關於法定存款準備率的規定，其目的並不包含：

- (A)提供中央銀行控制貨幣數量的工具
- (B)確保商業銀行體系的健全
- (C)減少銀行經營成本
- (D)防止銀行大量持有高風險性資產

Ans : C

65. 某甲將 4500 元存入第一銀行，在人民不持有通貨但各銀行皆保留存款金額 5%作為超額準備。今法定存款準備率為 10%，則整個經濟體系存款貨幣增加多少？

- (A) 30000 元
- (B) 60000 元
- (C) 45000 元
- (D) 90000 元

Ans : A

66. 中央銀行利用何種工具來影響貨幣供給？

- (A)公開市場操作；改變重貼現率；改變存款準備率
- (B)徵稅；公開市場操作；改變重貼現率
- (C)徵稅；發行通貨；改變利率
- (D)公開市場操作；發行通貨；發行公債

Ans : A

67. 下列哪一個事件會使民眾名目貨幣需求上升？

- (A)政府宣佈課徵公債利息所得稅
- (B)台銀宣佈調高一年期定存利率至 9%，預料其他行庫也將陸續跟進
- (C)年關將近，搶案盛行
- (D)坊間謠傳近期中國大陸將武力犯台

Ans : A

68. 若中央銀行增加貨幣供給，但是同時政府減少支出，則

- (A)利率下降，所得的變化無法確定
- (B)利率下降，所得下降
- (C)所得下降，利率的變化無法確定
- (D)利率下降，所得增加

Ans : A

69. 緊縮性的財政政策指

- (A)增加政府支出及減稅
- (B)增加貨幣供給及降低利率
- (C)減少政府支出及減稅
- (D)減少政府支出及增稅

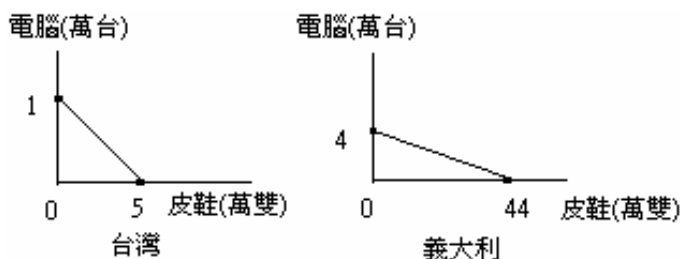
Ans : D

70. 1997 年亞洲金融風暴，東南亞各國遭受嚴重的經濟危機，經濟學家認為其主因是：

- (A)東南亞各國銀行呆帳過高
- (B)國有企業獨占市場，造成社會效率的損失
- (C)東南亞各國的外匯市場遭到投機客的攻擊所致
- (D)東南亞各國外債過多，而其經濟成長又無法支撐其資本快速擴張所致

Ans : D

71. 下圖為台灣及義大利之生產可能曲線，請問下列敘述何者為真：
- (A)在義大利每生產 1 雙鞋子，須犧牲 1/44 台電腦
 - (B)義大利生產鞋子的機會成本較高
 - (C)義大利在鞋子生產方面具相對優勢
 - (D)台灣在電腦與鞋子生產方面皆具絕對優勢

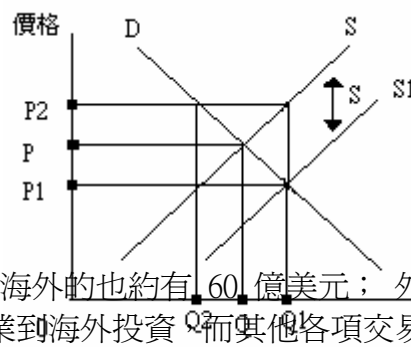


Ans : C

72. 產品生命週期模型認為相對優勢並非一成不變的，而是取決於
- (A)失業人口的多寡
 - (B)產品引進市場時間的長短與各國勞動成本的高低
 - (C)該國產業研發的能力
 - (D)勞動力在國內的流動程度

Ans : B

73. 如圖，假設 D 為國外對本國產品的需求線，S 為本國廠商的出口供給線。若政府對每單位的出口品補貼 S 元，則下列敘述何者為真？
- (A) 出口價為 P1，國內市場售價為 P2
 - (B)廠商出口每單位產品的實際收入為 P2+S
 - (C)補貼效果使出口量增加，國際市場上價格上升
 - (D)均衡時，出口量為 Q2，出口價為 P2



Ans : A

74. 我國目前每年經常帳的盈餘約 60 億美元，但資金流出海外的也約有 60 億美元；外流的資金大部分是到海外投資設廠之用。如果政府禁止企業到海外投資，而其他各項交易不受影響；此項措施將使外匯市場上
- (A)美元供給增加，因此美金貶值
 - (B)美元需求增加，因此美金升值
 - (C)美元需求減少，因此美金貶值
 - (D)美元供給減少，因此美金升值

Ans : C

75. 財政部開放外國人投資台灣的股市，將外國人投資每家上市公司的上限由 25% 提高到 50%，此舉造成外資大量湧入台灣股市；在其它條件不變下(中央銀行亦未干預)，
- (A)市場利率將大跌
 - (B)股市泡沫將造成房地產大跌價
 - (C)新台幣將因此貶值
 - (D)新台幣將因此升值

Ans : D

76. 請問套利者如何在外匯市場上進行套利行為？

- (A)賣出預期將貶值的貨幣，買進預期將升值的貨幣
- (B)賣出預期利率將上升的某國的貨幣，買進預期利率將下降的某國的貨幣
- (C)賣出預期產品需求將增加的某國的貨幣，買進預期產品需求將減少的某國的貨幣
- (D)賣出預期將升值的貨幣，買進預期將貶值的貨幣

Ans : A

77. 若採用固定匯率(fixed exchange rate)制，則不會產生以下何種現象？

- (A)中央銀行若吸收外匯市場上的超額供給時，就形成了外匯存底
- (B)在此匯率制度下，政府必須常常干預外匯市場
- (C)政府必須吸收所有外匯市場上的超額供給或超額需求
- (D)在此匯率制度下，即使無政府干預，外匯市場永遠結清

Ans : D

78. 根據古典學派的看法：

- (A)供給自創需求
- (B)政府應採行減稅政策，以刺激人民工作意願
- (C)失業與經濟衰退之所以產生，是因為有效需求不足所導致
- (D)價格具有僵固性

Ans : A

79. 設國民所得(NI)為 100 億元，政府對廠商補貼為 3 億元，間接稅為 12 億元，國外之移轉支付為 5 億元，折舊為 8 億元，請問 GNP 為多少？

- (A) 83 億元
- (B) 122 億元
- (C) 117 億元
- (D) 77 億元

Ans : C

80. 所謂隱藏性失業是指：

- (A)因為技能不符產業所需而失業的人
- (B)目前有工作卻想跳槽的人
- (C)只想領失業救濟金卻不想找工作的人
- (D)未被解雇，卻因景氣惡化而被迫減少工時

Ans : D